

تجميع

أبداع بقدراتك

الفترة الاولى

25 صفر (السبت صباحي)

المقدمة

نأمل ان يرضيكم عملنا هذا وان تنتفعوا به أشد الإنتفاع
الحقوق محفوظة لفريق (أبدع بقدراتك)

ولا نحلل اخذ المحتوى او شرحه بدون ذكر المصدر

تنبيه !!

لقد بذل جهد كبير في هذا الملف
و كما هو معروف الملف عبارة عن تجميعات
تؤخذ من الطلاب لذلك قد يكون الخطأ وارد

اللهم إنفعنا بما علمتنا ، وعلمنا ما ينفعنا ، وزدنا علماً
اللهم أستودعك ما حفظت وتعلمت
فأرده إلي عند حاجتي إليه ولا تنسينيه
يا رب العالمين

دعاء المذاكرة

قنواتنا وحساباتنا

قناة
التسريبات



http://t.me/Abdih_T

قناة
التحصيلي



<http://t.me/AbdihTH>

قناة
القدرات



<http://t.me/AbdihQT>

يوتيوب
أبدع بقدراتك

قناة
إدراك الجامعية



<http://t.me/EdraKQT>

الانستغرام & تويتر
@AbdihQT

يمكنك الضغط فقط للتحويل المباشر

السؤال 1		
تجميع أبداع بقدراتك		
إذا كانت النسبة بين نصفى قطرى الدائرة هى 1:12 فما النسبة بين مساحتهما ؟		
1:55	أ ب	1:144
3:66	د ج	2:4

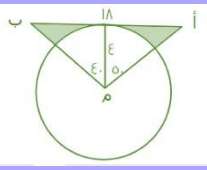
السؤال 2		
تجميع أبداع بقدراتك		
مصنع يعمل به 50 عامل ويصنعون 1500 متر من القماش شهريًا , فإذا زاد عدد العمال 10, فكم سينتجون من القماش شهريًا؟		
2000	أ ب	1800
1200	د ج	2500

السؤال 3		
تجميع أبداع بقدراتك		
6 دجاجات تنتج كل منهم بيضة كل يوم والبض يوضع فى صحن يتحمل 30 بيضة كم عدد الصحن المستخدمة فى 20 يوم؟		
8	أ ب	6
7	د ج	4


السؤال 4		
تجميع أبداع بقدراتك		
س ² +ص ² =0, فأوجد س ² -ص ²		
7	أ ب	6
0	د ج	10

4	3	2	1
د	ج	أ	أ

تجميع أبداع بقدراتك		السؤال 5	
		ما هو قياس زاوية طلاب ث شرعى تقريباً؟	
42	أ ب	32	
54	د ج	45	

تجميع أبداع بقدراتك		السؤال 6	
		أوجد مساحة المظل إذا كان نصف قطر الدائرة = ع	
33	أ ب	23	
15	د ج	26	

تجميع أبداع بقدراتك		السؤال 7	
$= \frac{40}{100} + \frac{4}{1000} + \frac{4}{10000}$			
0,4044	أ ب	0,5	
4,044	د ج	0,4	

تجميع أبداع بقدراتك		السؤال 8	
		فى الشكل المجاور، ما هى نسبة المظل الى الشكل كامل ؟	
$\frac{1}{3}$	أ ب	$\frac{1}{2}$	
$\frac{7}{6}$	د ج	$\frac{1}{4}$	

8	7	6	5
أ	ب	أ	أ

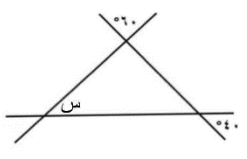
السؤال 9		تجميع أبداع بقدراتك	
سافر فهد من الساعة ٣:٤٥ صباحًا إلى الساعة ٤ مساءً وسافر سعد من الساعة ٩:١٥ صباحًا إلى الساعة ١١:٣٠ مساءً من نفس اليوم ، فـقارن بين : القيمة الأولى : زمن رحلة فهد القيمة الثانية : زمن رحلة سعد			
القيمة الأولى	أ	ب	القيمة الثانية
القيمتان متساويتان	ج	د	المعطيات غير كافية


السؤال 10		تجميع أبداع بقدراتك	
ساعة تحركت 120 درجة فكم دقيقة تحركت؟			
20	أ	ب	18
15	ج	د	13

السؤال 11		تجميع أبداع بقدراتك	
ثلاثة اصحاب احدهم عمره ١٤ و الاخر ١٢ فما عمر الثالث علماً بأن مجموع اعمارهم ٤٨؟			
26	أ	ب	22
13	ج	د	15

السؤال 12		تجميع أبداع بقدراتك	
قارن إذا كان س ≠ صفر ٢ - ٠ س ٠ - ٢ س			
القيمة الأولى	أ	ب	القيمة الثانية
القيمتان متساويتان	ج	د	المعطيات غير كافية

9	10	11	12
ب	أ	ب	ج

السؤال 13		تجميع أبداع بقدراتك	
اوجد قيمة س؟			
60	أ	70	ب
90	ج	80	د

السؤال 14		تجميع أبداع بقدراتك	
حسب الشكل التالي ، اذا كان راتب خالد = ٣٦٠٠ ريال ، فكم يدخر؟			
4000	أ	6000	ب
500	ج	800	د

السؤال 15		تجميع أبداع بقدراتك	
اذا كان هناك 15 ورقة من فئة الريال و 5 ريال وكان عدد الاوراق من فئة 5 ريال مثلى عدد الاوراق من فئة الريال فكم المبلغ الكلى			
27	أ	15	ب
11	ج	20	د

السؤال 16		تجميع أبداع بقدراتك	
آلة يقل سعرها ٢٠٠ ريال سنويا ، و سعرها الان ١٨٠٠ ريال ، فكم سيكون سعرها بعد ٧ سنوات ؟			
100	أ	400	ب
500	ج	1200	د

16	15	14	13
ب	أ	د	د

السؤال 17		تجميع أبداع بقدراتك	
اوجد قيمة س؟			
75	أ	ب	80
100	ج	د	90

السؤال 18		تجميع أبداع بقدراتك	
قارن بين بين:			
طيارة تمشى 600 كيلومتر فى 3 ساعات طيارة تمشى 380 كيلو متر فى 0 ساعات			
القيمة الاولى	أ	ب	القيمة الثانية
القيمتان متساويتان	ج	د	المعطيات غير كافية

السؤال 19		تجميع أبداع بقدراتك	
قارن بين:			
$2\sqrt{3}$ $3\sqrt{2}$			
القيمة الاولى	أ	ب	القيمة الثانية
القيمتان متساويتان	ج	د	المعطيات غير كافية

السؤال 20		تجميع أبداع بقدراتك	
عددان مجموعهما 48 والفرق بينهما 6 فأن اكبرهما؟			
27	أ	ب	11
21	ج	د	29

20	19	18	17
أ	ب	أ	أ

السؤال 21		تجميع أبداع بقدراتك	
إذا باع نواف إحدى الثلاث في معرضه بمبلغ 2400 ريال . فإن ربحه سيكون 20% فكم ريالاً سيكون ثمن الثلاثه إذا أراد بيعها بربح مقداره 5% فقط :			
1960	أ	ب	2100
2160	ج	د	2200

السؤال 22		تجميع أبداع بقدراتك	
إذا كان ن عدداً زوجياً دائماً , فأى مما يلي فردى دائماً ؟			
(1-ن)3	أ	ب	2ن
3ن	ج	د	ن-2

السؤال 23		تجميع أبداع بقدراتك	
إذا كانت الساعة 5 مساء فكم تكون بعد 60 ساعة؟			
6 مساء	أ	ب	5 مساء
5 صباح	ج	د	7 صباح

السؤال 24		تجميع أبداع بقدراتك	
4 مولدات ينتجون 5000 واط اذا تعطل مولد واحد فكم سيكون الإنتاج بالواط؟			
1000	أ	ب	3000
3750	ج	د	1250

24	23	22	21
ح	ج	أ	ب


السؤال 25			تجميع أبداع بقدراتك
مصعد يصعد كل دقيقتين 80م كم يصعد فى 20 ثانية؟			
13,5	أ	ب	14
15	ج	د	16

السؤال 26			تجميع أبداع بقدراتك
3 اعداد فردية متتالية مجموعها 21 فما هو حاصل ضربهم؟			
315	أ	ب	350
400	ج	د	410

السؤال 27			تجميع أبداع بقدراتك
متوازي مستطيلات حجمة 90 , اوجد س اذا كانت احرفه س,س+2,س+3 :			
4	أ	ب	3
1	ج	د	2

السؤال 28			تجميع أبداع بقدراتك
راتب موظف 6000 ريال ويأخذ ربح 3% من الأرباح الشركات كم يكون راتبه إذا كانت الأرباح 150,000 ريال؟			
9000	أ	ب	10500
12200	ج	د	11000

28	27	26	25
ب	ب	أ	أ

تجميع أبداع بقدراتك			السؤال 29
		فى الشكل المجاور اوجد نسبة المظل الى الشكل:	
$\frac{1}{4}$	أ	ب	$\frac{1}{2}$
4	ج	د	$\frac{1}{3}$

تجميع أبداع بقدراتك			السؤال 30
عددان مجموعهم ١٣٠ و الفرق بينهم ٥٠ قارن بين :			
القيمة الأولى: العدد الأصغر		القيمة الثانية: 45	
القيمة الأولى	أ	ب	القيمة الثانية
القيمتان متساويتان	ج	د	المعطيات غير كافية

تجميع أبداع بقدراتك			السؤال 31				
<table border="1" data-bbox="252 1182 478 1294"> <tr> <td>20</td> <td></td> </tr> <tr> <td>10</td> <td>12</td> </tr> </table>		20		10	12	اوجد مساحة المظل:	
20							
10	12						
20	أ	ب	28				
26	ج	د	30				

تجميع أبداع بقدراتك			السؤال 32
شخص مشى بسياره مسافة 220 كلم فى 3 ساعات كم ساعه اذا مشى مسافة 1100			
13	أ	ب	12
15	ج	د	16

29	30	31	32
ب	ب	ب	ج

تجميع أبداع بقدراتك		السؤال 33
		اوجد قيمة س؟
20	ب أ	100
90	د ج	80

كمي

بِقدراتك
ABDIH



36	35	34	33
د	ج	ب	ج

السؤال 1		تجميع أبداع بقدراتك	
قلم : كتابة			
شبكة : صيد	أ	ب	باخرة : شحن
مزارع : منجل	ج	د	عدسة : تكبير

السؤال 2		تجميع أبداع بقدراتك	
المفردة الشاذة			
ريال	أ	ب	دولار
درهم	ج	د	ليرة

السؤال 3		تجميع أبداع بقدراتك	
..... العاقل أفضل من..... الجاهل			
ظن - يقين	أ	ب	كذب - صدق
عفو - مجاملة	ج	د	محبة - مودة

السؤال 4		تجميع أبداع بقدراتك	
احمر : خطر			
اسود : ظلماء	أ	ب	ابيض : نقاء
اصفر : صحراء	ج	د	أصفر : ناصع

4	3	2	1
ب	أ	ب	د

السؤال 5			تجميع أبدء بقدراتك	
عثرة القدم... عثرة اللسان				
أسلم	أ	ب	أهون	
أسرع	ج	د	أعظم	

السؤال 6			تجميع أبدء بقدراتك	
سيف : غمد				
خنجر : معركة	أ	ب	ميت : قبر	
الصفح : العفو	ج	د	أذن : سماعة	

السؤال 7			تجميع أبدء بقدراتك	
المفردة الشاذة				
ينبع	أ	ب	الجيل	
القصيم	ج	د	تبوك	

السؤال 8			تجميع أبدء بقدراتك	
المفردة الشاذة				
معبد	أ	ب	مسجد	
كنيسة	ج	د	صومعه	

8	7	6	5
د	ج	ب	أ

السؤال 9		تجميع أبداع بقدراتك	
الضمير المتعب والاقدام المتعبة , خير من الضمير المتعب والاقدام المستريحة			
المتعب	أ	ب	المتعبة
خير	ج	د	المستريحة

السؤال 10		تجميع أبداع بقدراتك	
عاصمة			
الاسكندرية	أ	ب	القاهرة
قرية	ج	د	مدينة

السؤال 11		تجميع أبداع بقدراتك	
الحكيم من ... بالمصائب , ل منها الفوائد			
يسعد - يزرع	أ	ب	يحزن - يجمع
يفرح - يقتطف	ج	د	يفرح - يبذر

السؤال 12		تجميع أبداع بقدراتك	
قلم : حبر			
كاس : ماء	أ	ب	سيارة : باص
طبشور : سبورة	ج	د	سيارة : بنزين

4	11	10	9
د	ج	ب	أ

السؤال 13		تجميع أبداع بقدراتك	
من ينتصر على غيره فهو قوى ومن ينتصر على نفسه فهو ضعيف			
ضعيف	أ	ب	على
قوى	ج	د	نفسه

السؤال 14		تجميع أبداع بقدراتك	
الرجل الحسن من يصدق لسانه ويتحمل خيرات جيرانه أو بغض بصره عن جيرانه			
جيرانه	أ	ب	خيرات
بصره	ج	د	يفض

السؤال 15		تجميع أبداع بقدراتك	
قمل : رأس			
تبيس : عظام	أ	ب	تسوس : أسنان
تجلط : دم	ج	د	تصلب : شرايين

السؤال 16		تجميع أبداع بقدراتك	
فحم: وقود			
دواء : علاج	أ	ب	قمح : غذاء
غاز : نار	ج	د	فاكهه : برتقال

16	15	14	13
ب	ب	ب	أ

السؤال 17		تجميع أبداع بقدراتك	
الانسان بلا هدف كالسفينة بلا دفة يبدأ بها الامر عند الصخور			
يبدأ	أ	ب	هدف
الصخور	ج	د	الامر

السؤال 18		تجميع أبداع بقدراتك	
العصفور : يرفرف			
السلحفاة : الحكمة	أ	ب	طار : الطائر
يطلق : الصقر	ج	د	الجمال : يبرك

السؤال 19		تجميع أبداع بقدراتك	
الطفل : الام			
التعليم : معلم	أ	ب	زواج : ذريه
مدينة - شارع	ج	د	رجل - طفل

السؤال 20		تجميع أبداع بقدراتك	
اهمال : فشل			
جهد : تعب	أ	ب	حادث : سرعة
نجاح : اجتهاد	ج	د	سلبى : ايجابى

20	19	18	17
ب	أ	د	أ

السؤال 21		تجميع أبداع بقدراتك	
تهور : ضرر			
إعاقة : سرعة	أ	ب	معصية : ذنب
منصب : غنى	ج	د	فشل : نجاح

السؤال 22		تجميع أبداع بقدراتك	
فم : لسان			
اذن : سمع	أ	ب	غمد : سيف
جورب : رجل	ج	د	رأس : طاقية

السؤال 23		تجميع أبداع بقدراتك	
شارع : رصيف			
بحر : شاطئ	أ	ب	اسوارة : يد
بيت : صى	ج	د	مسجد : مطلى

السؤال 24		تجميع أبداع بقدراتك	
شجرة : لحاء			
قلم : غطاء	أ	ب	خليه : غشاء
شجرة : نضلة	ج	د	انسان : جلد

24	23	22	21
د	أ	ب	ب

السؤال 25		تجميع أبداع بقدراتك	
الإديار : الهروب			
بيع : قبول	أ	ب	السعادة : الابتهاج
بخل : شح	ج	د	فرح : حزن

السؤال 26		تجميع أبداع بقدراتك	
سباحة : نشاط			
عبوس : بكاء	أ	ب	حرارة : ذوبان
سرعة : ركض	ج	د	غطس : شجاعة

السؤال 27		تجميع أبداع بقدراتك	
نقود : درهم			
وقود : بنزين	أ	ب	سماع : اذن
معجم : حروف	ج	د	جملة : حرف

السؤال 28		تجميع أبداع بقدراتك	
نوم : سُبات			
شمس : إشراق	أ	ب	سحابة : ندى
برد : زمهرير	ج	د	سفينة : زُوزق

28	27	26	25
ج	أ	د	ب

السؤال 29		تجميع أبداع بقدراتك	
كن مع من تحب لدرجة بخطئك			
صريحا - الاعتراف	أ	ب	محبيا - الندم
متفائلا - الفرح	ج	د	وقحا - الحزن

السؤال 30		تجميع أبداع بقدراتك	
ان الاستغفار وسيلة للتوبة وينتج عنه ارتكاب الذنوب			
ارتكاب	أ	ب	مغفرة
وسيلة	ج	د	الاستغفار

السؤال 31		تجميع أبداع بقدراتك	
نجاح : اجتهاد			
عجين : خبز	أ	ب	تعلم : ممارسة
كذب : إفك	ج	د	تدهور : ندم

السؤال 32		تجميع أبداع بقدراتك	
الفشل هو الوحيد الذي يستطيع الانسان ان يتفاداه دون ان يبذل جهدا			
الفشل	أ	ب	يبذل
يتفاداه	ج	د	الانسان

32	31	30	29
ج	ب	أ	أ

السؤال 33		تجميع أبداع بقدراتك	
إن الانجازات تقل لهؤلاء الناس الذين يروا فى الاشياء التفاهة امكانيات كبيرة			
تقل	أ	ب	امكانيات
الناس	ج	د	الاشياء

السؤال 34		تجميع أبداع بقدراتك	
المتفائل يرى فرصة فى كل صعوبة والمتعلم يرى صعوبة فى كل فرصة			
المتعلم	أ	ب	المتفائل
فرصة	ج	د	يرى

السؤال 35		تجميع أبداع بقدراتك	
كلما زاد الانسان فهذا دليل على كثرة...			
نجاح - حساده	أ	ب	فشل - اصدقائه
نجاح - فشل	ج	د	غضب - احبابه

السؤال 36		تجميع أبداع بقدراتك	
سبابة : مطر			
كتاب : علم	أ	ب	ماء : كأس
فراش : نوم	ج	د	زجاجة : غطاء

36	35	34	33
أ	أ	أ	أ

السؤال 37		تجميع أبداع بقدراتك	
محرر : صحيفة			
كتاب : فهرس	أ	ب	قناة : مذيع
موظف : شركة	ج	د	معجم : مؤلفون

السؤال 38		تجميع أبداع بقدراتك	
إعدام : قتل			
تية : ضياع	أ	ب	إصلاح : تعليم
جراحة : تخدير	ج	د	موز : فاكهة

السؤال 39		تجميع أبداع بقدراتك	
عدم الاستماع لنصيحة الجاهل كالمريض الذي لا يستفيد من الطبيب			
نصيحة	أ	ب	الجاهل
الطبيب	ج	د	المريض

السؤال 40		تجميع أبداع بقدراتك	
نفسك أمانه على فيجب اخفاؤها من كل مكروه			
نفسك	أ	ب	مكروه
يجب	ج	د	اخفاؤها

40	39	38	37
د	ج	أ	ج

تجميع أبداع بقدراتك		السؤال 41
اطفئ نار الغضب بالهدوء قبل أن تنطفئ ناره فى قلبك		
الغضب	ب	أ
تنطفئ	د	ج
		نار
		بالهدوء

44	43	42	41
			د

القطع الواردة في الاختبار :

- الشعر
- المكتبات
- الفيروسات
- الشيخوخة
- الملح الصخري
- البكتيريا وانواعها
- التواصل
- التصحر
- الاشجار
- اذريجان

اعلان بسيط

مجرة أبدع

زبدة القدرات

ملخص شامل لجميع الاقسام في الكمي واللفظي
ويأذن الله يختصر عليكم كثير في مشواركم مع القدرات

اطلبها الان

MJRH.ABDIHQT.COM



ملف الكتروني 85 صفحة



فريق العمل

تصميم و إشراف

محمد البدر

@MO7ALBADER

تجميع وكتابة

محمد عبدالله

عمر السيد

جود عجلان

فاطمة سلمان

هيا خالد

رزان وائل

ماريه احمد

لمى عبدالرزاق

نور علي

سجى العنزي

إيلانور

مخلصة

شرح على اليوتيوب

سامي محمد

تدقيق ومراجعة

فريق أبداع بقدراتك

ABDIHQ.T.COM